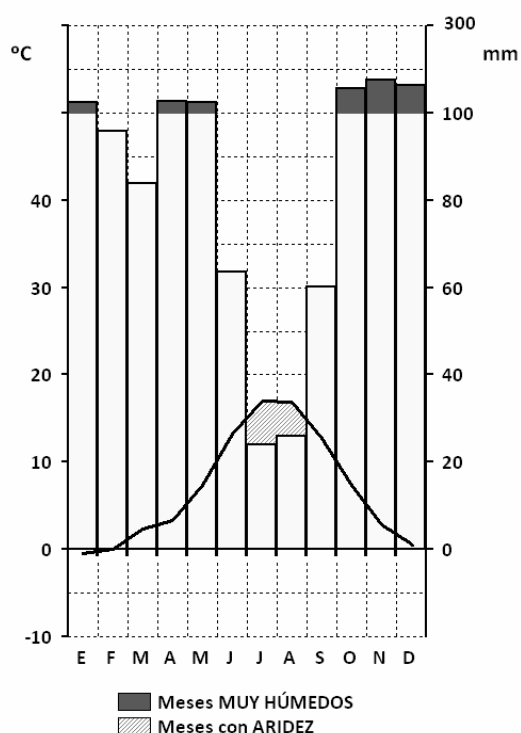
	<p align="center">Pruebas de Acceso los Estudios Universitarios de Grado</p> <p align="center">Castilla y León</p>	<p align="center">GEOGRAFÍA</p>	<p align="center">EJERCICIO</p> <p align="center">Nº páginas 2</p>
---	--	--	--

Se presentan **DOS** propuestas de prueba con idéntica estructura (**Opción A** y **Opción B**).
El alumno deberá **escoger UNA** de ellas y **RESPONDER SÓLO A LA ELEGIDA**.

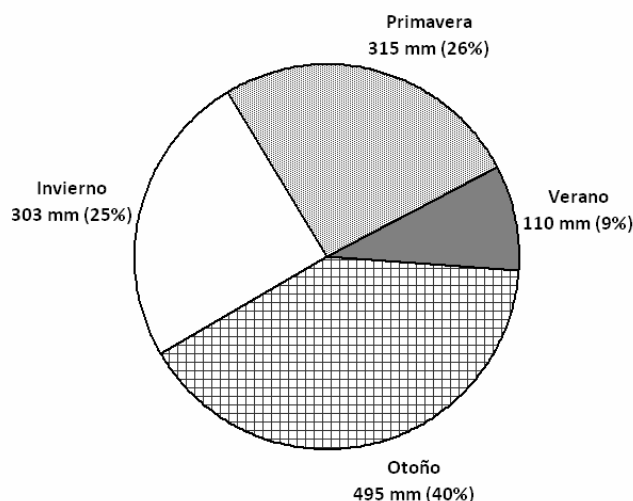
OPCIÓN A

Pregunta 1 (Hasta 2 puntos).

PRÁCTICA. Con los gráficos adjuntos (Diagrama ombrotérmico y Distribución estacional de las precipitaciones) referidos al observatorio del Puerto de Navacerrada (1981-2010), explique el tipo de clima, relacionando las precipitaciones y las temperaturas. Fuente: AEMET.



Pto. de NAVACERRADA (Madrid) 1.894 m
 Latitud: 40º 47' N Longitud: 4º 00' W
 Temperatura media anual: 6'9 °C
 Precipitación anual: 1.224 mm



Pregunta 2 (Hasta 2 puntos). Desarrolle, redactando con orden, coherencia y claridad expositiva, los contenidos relativos al “Proceso de industrialización española: características y breve evolución histórica”.

Pregunta 3 (Hasta 2 puntos). Desarrolle, redactando con orden, coherencia y claridad expositiva, los contenidos relativos a las “Fuentes para el estudio de la población en España”.

Pregunta 4 (Hasta 2 puntos). **CONCEPTOS.** Defina con la mayor precisión posible los siguientes términos (máximo de CINCO líneas por cada concepto)

- Campiña**
- Orogenia**
- Agricultura extensiva**
- PYME**
- Comunidad Autónoma**

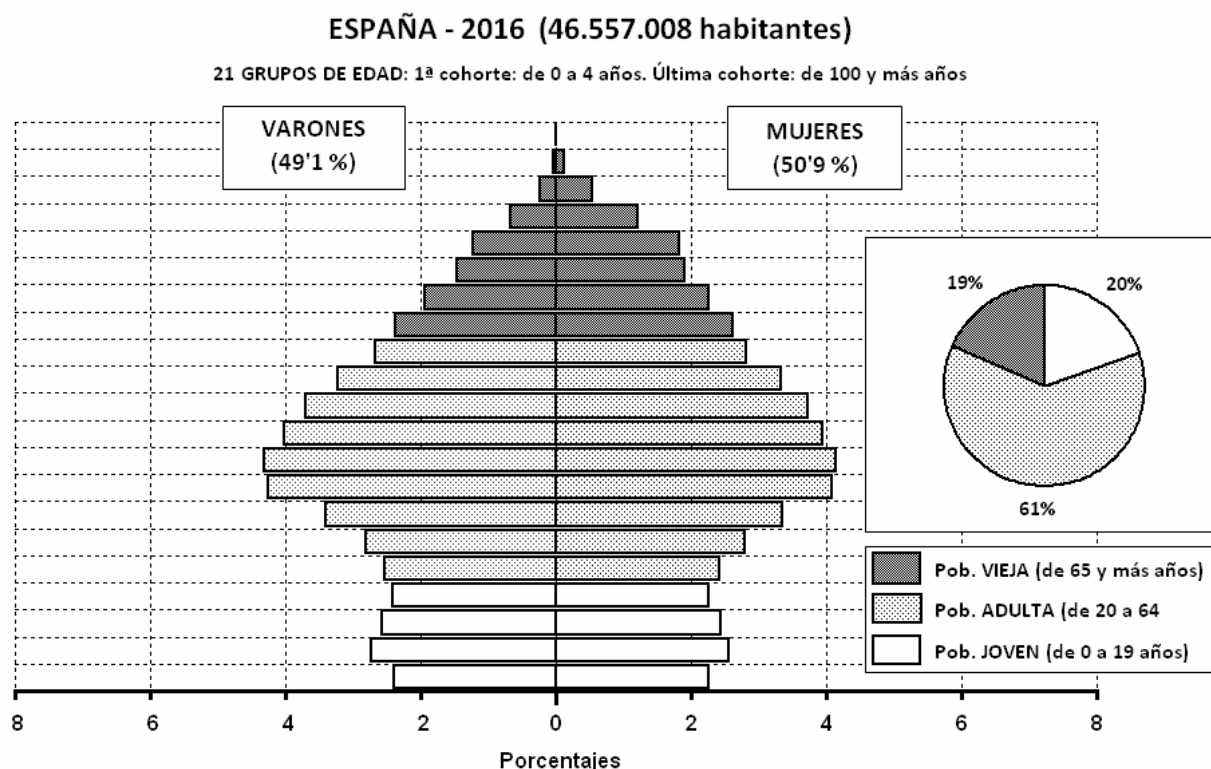
Pregunta 5 (Hasta 2 puntos). **LOCALIZACIONES.** En el mapa adjunto localice de forma inequívoca y con la mayor precisión posible (mediante punto, línea o contorno, y con el número correspondiente) los siguientes elementos geográficos:

- | | | | |
|--------------------------|------------------------------|------------------------------|----------------------------|
| 1) El Hierro | 2) Lleida (provincia) | 3) Cordillera Ibérica | 4) Tierra de Campos |
| 5) Golfo de Cádiz | 6) Cuenca (provincia) | 7) Pico Aneto | 8) Cabo Mahichaco |
| 9) Sierra Morena | 10) Cantabria | | |

OPCIÓN B

Pregunta 1 (Hasta 2 puntos).

PRÁCTICA. A partir de los gráficos adjuntos, comente la estructura por edad y sexo de la población de ESPAÑA 2016 (%). Fuente: INE



Pregunta 2 (Hasta 2 puntos). Desarrolle, redactando con orden, coherencia y claridad expositiva, los contenidos relativos a **“La evolución geológica del territorio español”**.

Pregunta 3 (Hasta 2 puntos). Desarrolle, redactando con orden, coherencia y claridad expositiva, los contenidos relativos a los **“Tipos de agricultura: coexistencia de formas avanzadas y tradicionales”**.

Pregunta 4 (Hasta 2 puntos). CONCEPTOS. Defina con la mayor precisión posible los siguientes términos (máximo de CINCO líneas por cada concepto)

- **Aridez estival** • **Desarrollo sostenible** • **Polígono industrial** • **Consejo Europeo**
- **Agricultura intensiva**

Pregunta 5 (Hasta 2 puntos). LOCALIZACIONES. En el mapa adjunto localice de forma inequívoca y con la mayor precisión posible (mediante punto, línea o contorno, y con el número correspondiente) los siguientes elementos geográficos:

- 1) **Río Miño**
- 2) **Melilla**
- 3) **Marismas del Guadalquivir**
- 4) **Río Llobregat**
- 5) **Timanfaya (PN)**
- 6) **Comunidad Foral de Navarra**
- 7) **Archipiélago de Cabrera (PN)**
- 8) **Ciudad Real (provincia)**
- 9) **Guadarrama (PN)**
- 10) **Arribes del Duero**